

النشاط العلمي

الفرض الأول الدورة الثانية

اسم المتعلم:

1

أتمم بما يناسب: أحافظ - تحيا - الماء - النظافة - الشرب - الأمطار،

❖ كل الكائنات الحية تحتاج إلى لذلك يجب على أن عليه، ولا أهدره.

❖ نحصل على الماء من مصادر مختلفة، مثل ، ونستعمله في و

2







أسمي كل فصل من فصول السنة:

الربيع - الصيف - الشتاء - الخريف.



3

أضع علامة × أسفل الأشياء التي تحتاج للماء:

4

أربط كل نبتة بوسط عيشها:



الجبال



الصحاري



المشهور

الماء



3

3

2

2